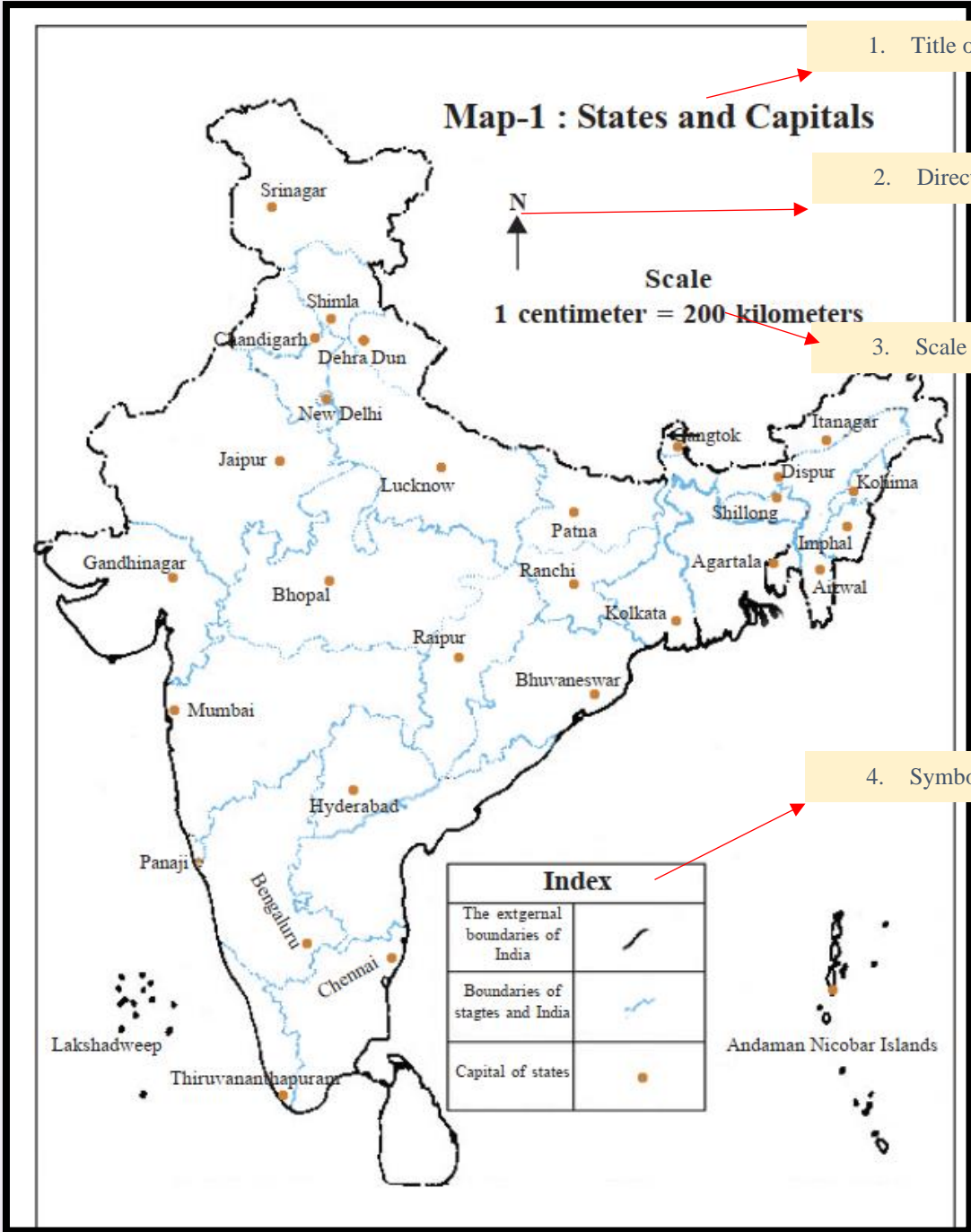




**Week-2: WORK SHEET-3** **Maps ( పటాలు )**

1. Observe the following map and write the component of a map.



1. Title of the map

2. Directions

3. Scale

4. Symbols



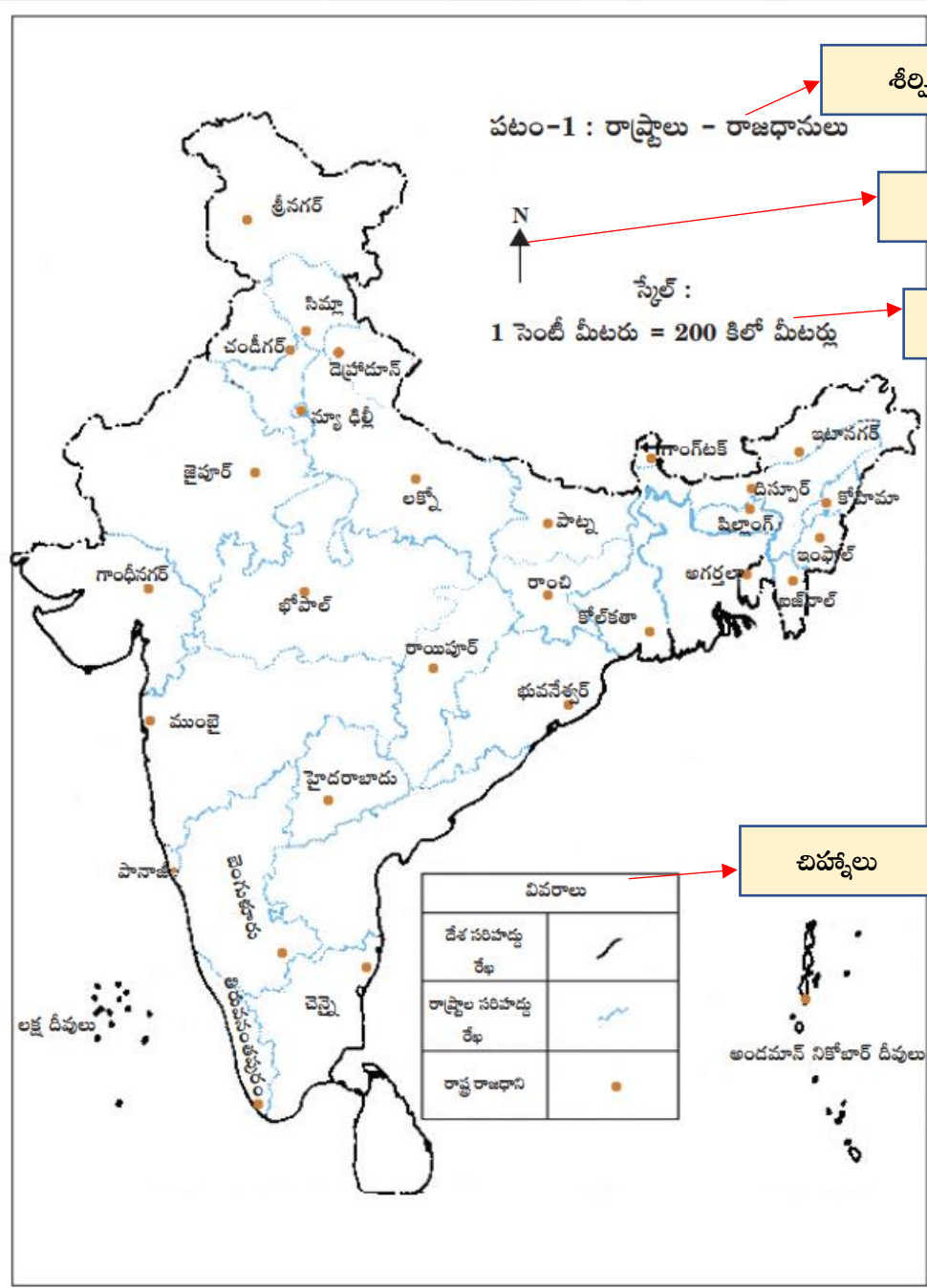
www.digitalsocialteacher.in

**6<sup>th</sup> SOCIAL STUDIES – WORKSHEETS**  
by Rambabu Sunkari

**Alternative Academic Calendar 2020**

**Week-2: WORK SHEET-3** **Maps ( పటాలు)**

1. దిగువ పటాన్ని చదివి, పటములో ఉండే ద్రుధాన భాగాలను రాయండి.



శీర్షిక

దిక్కులు

స్కేలు

చిహ్నాలు

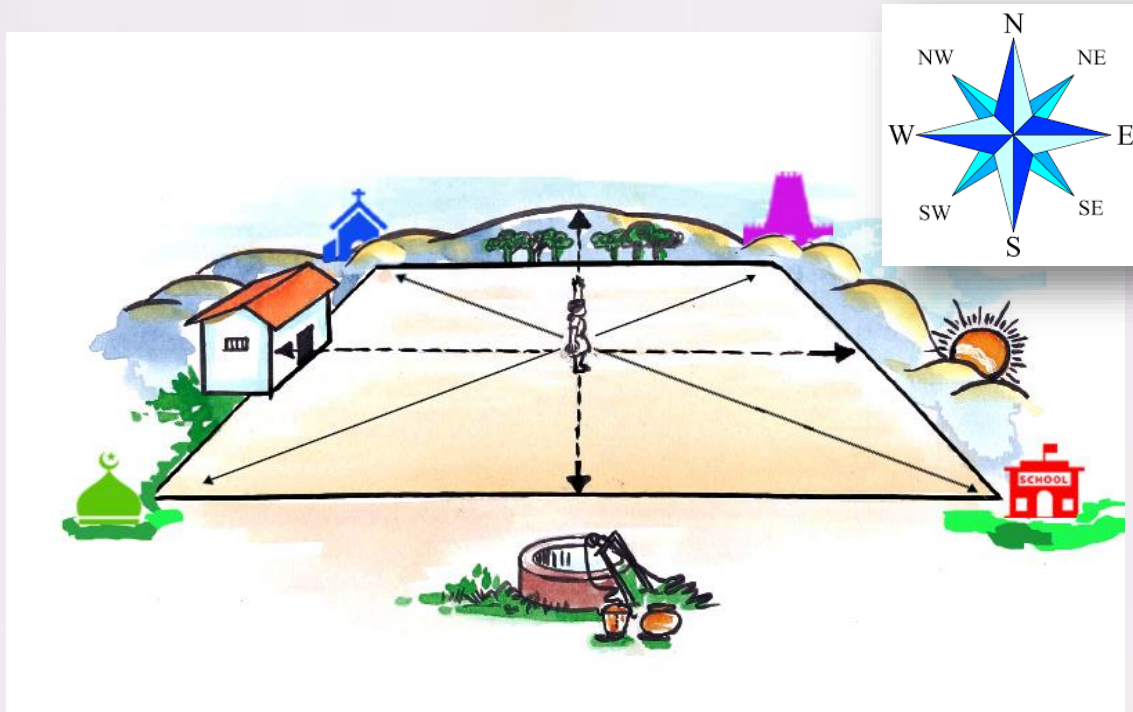


www.digitalsocialteacher.in

Week-2: WORK SHEET-3

Maps ( పటాలు )

2. Observe the following picture and fill the below table.



| Direction    | Object  |
|--------------|---------|
| North        |         |
| North- East  |         |
| South        |         |
| South- West  |         |
| East         | Sunrise |
| South – East |         |
| West         |         |
| North- West  |         |





www.digitalsocialteacher.in

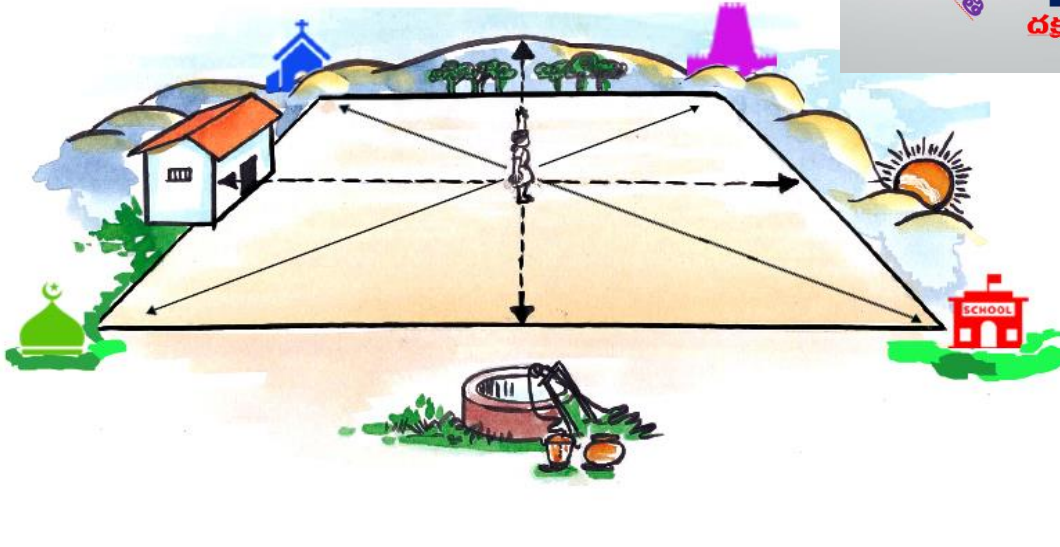

6<sup>th</sup> SOCIAL STUDIES – WORKSHEETS  
by Rambabu Sunkari

Alternative Academic  
Calendar 2020

Week-2: WORK SHEET-3

Maps ( పటాలు)

2. దిగువ చిత్రాన్ని ఆధారంగా క్రింది పట్టికను పూరించండి.



| దిక్కు   | వున్న అంశము |
|----------|-------------|
| ఉత్తర    |             |
| ఈశాన్యం  |             |
| దక్షిణం  |             |
| నైరుతి   |             |
| తూర్పు   | సూర్యోదయం   |
| ఆగ్నేయం  |             |
| పశ్చిమం  |             |
| వాయువ్యం |             |